


... Γυμνάσιο .....

Σχολικό έτος: 20 - 20

Τμήμα:

## διαγνωστική αξιολόγηση α' γυμνασίου στα μαθηματικά δημοτικού

 Να κάνεις τις ακόλουθες πράξεις:

α.  $17,437 + 3,04$


β.  $\frac{3}{2} - \frac{3}{4}$


γ.  $3,5 \times 11,24$

δ.  $\frac{9}{16} : \frac{3}{4}$


Λύση:

 Αν η περίμετρος ενός τετραγώνου είναι 36cm τότε το εμβαδόν του είναι: -----

 Για να βρεις αποτέλεσμα 5 πρέπει να πολλαπλασιάσεις το 4 με το: -----

 Ο Νίκος έφαγε το  $\frac{1}{4}$  μιας πίτσας ενώ ο Πέτρος έφαγε τα  $\frac{3}{8}$  της ίδιας πίτσας.

Περισσότερη πίτσα έφαγε ο: -----

 Ένας ελαιοπαραγωγός έδωσε στο ελαιοτριβείο 3 τόνους ελιές.

Πήρε λάδι με βάρος το 15% του βάρους των ελιών και το πούλησε προς 3,2 € το κιλό.

Πόσα χρήματα εισέπραξε ο ελαιοπαραγωγός από την πώληση του λαδιού;

Λύση: